



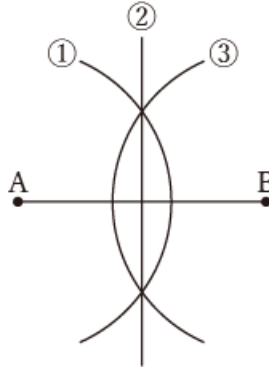
1 下の【図2】は，【図1】の線分 AB の垂直二等分線を作図したものである。①～③の線を，作図をした順番に並べなさい。

1	→ →
---	-----

【図1】



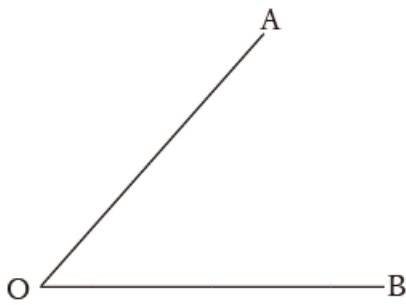
【図2】



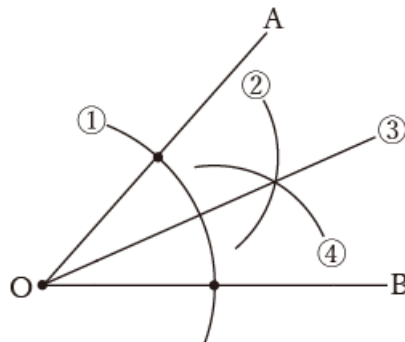
2 下の【図2】は，【図1】の $\angle AOB$ の二等分線を作図したものである。①～④の線を，作図をした順番に並べなさい。

2	→ → →
---	-------

【図1】




【図2】



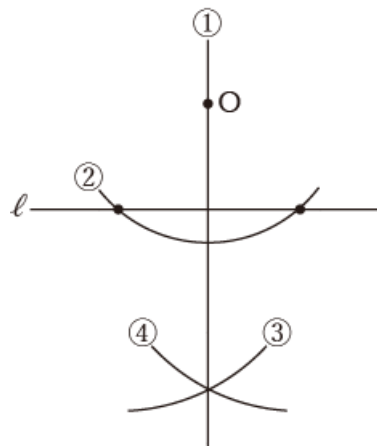
3 下の【図2】は，【図1】の点 O から直線  $l$  に垂直な線を作図したものである。①～③の線を，作図をした順番に並べなさい。

3	→ → →
---	-------

【図1】



【図2】





答 え 合 わ せ

(間違えた問題は動画で解き方を確認しよう)

1 ① → ③ → ② (③ → ① → ② も可)

2 ① → ② → ④ → ③ (① → ④ → ② → ③ も可)

3 ② → ③ → ④ → ① (② → ④ → ③ → ① も可)

