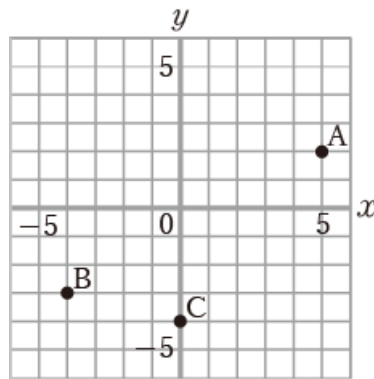




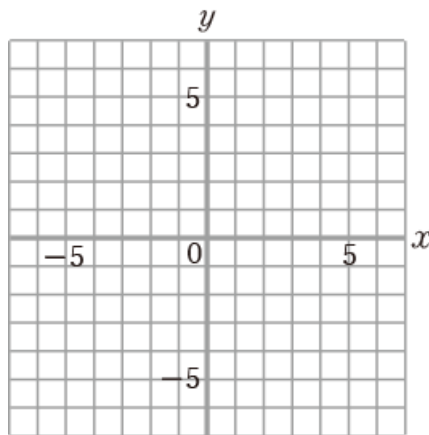
- 1 右の図について、点A, B, Cの座標を答えなさい。



1	A
	B
	C

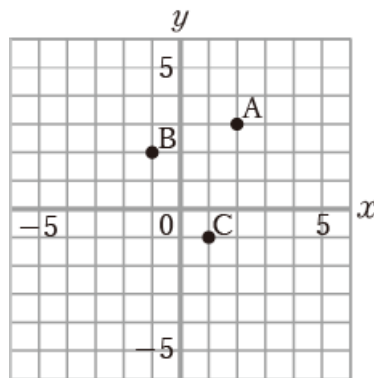
- 2 点A(2, 4)について次の問いに答えなさい。

- (1) x 軸について対称な点を求めなさい。
- (2) y 軸について対称な点を求めなさい。
- (3) 原点について対称な点を求めなさい。



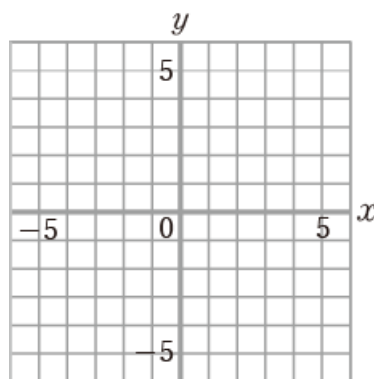
2	(1)
	(2)
	(3)

- 3 右の図において、1めもりを1cmとすると、三角形ABCの面積を求めなさい。



3	
---	--

- 4 平行四辺形の3つの頂点がそれぞれ、(2, -1), (0, -3), (-1, 2)であるとき、もう1つの頂点の座標をすべて求めなさい。



4	



答え合わせ

(間違えた問題は動画で解き方を確認しよう)

- ① A (5, 2) B (-4, -3) C (0, -4)
- ② (1) (2, -4) (2) (-2, 4) (3) (-2, -4)
- ③ 5.5cm^2
- ④ (-3, 0) (1, 4) (3, -6)

